

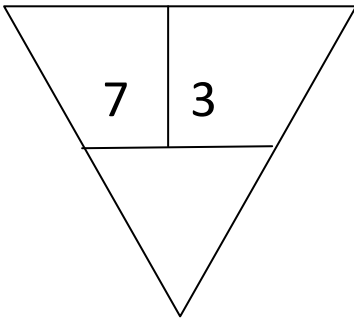
## Προσθέσεις με υπέρβαση της δεκάδας

Όνομα: \_\_\_\_\_

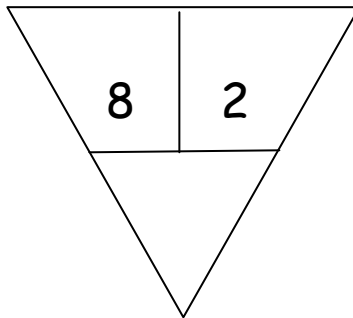
Οι αριθμοί από  
πάνω  
κάνουν 10



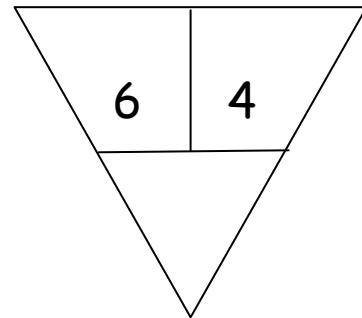
1. Βρες ποιος αριθμός λείπει



όλα είναι 12



όλα είναι 15



όλα είναι 16

2. Αντιστοίχισε το αποτέλεσμα της κάθε πρόσθεσης με το σωστό μπαλόνι

$8+2+5=$

$6+4+2=$

$5+5+4=$

$9+1+3=$

$7+3+8=$

