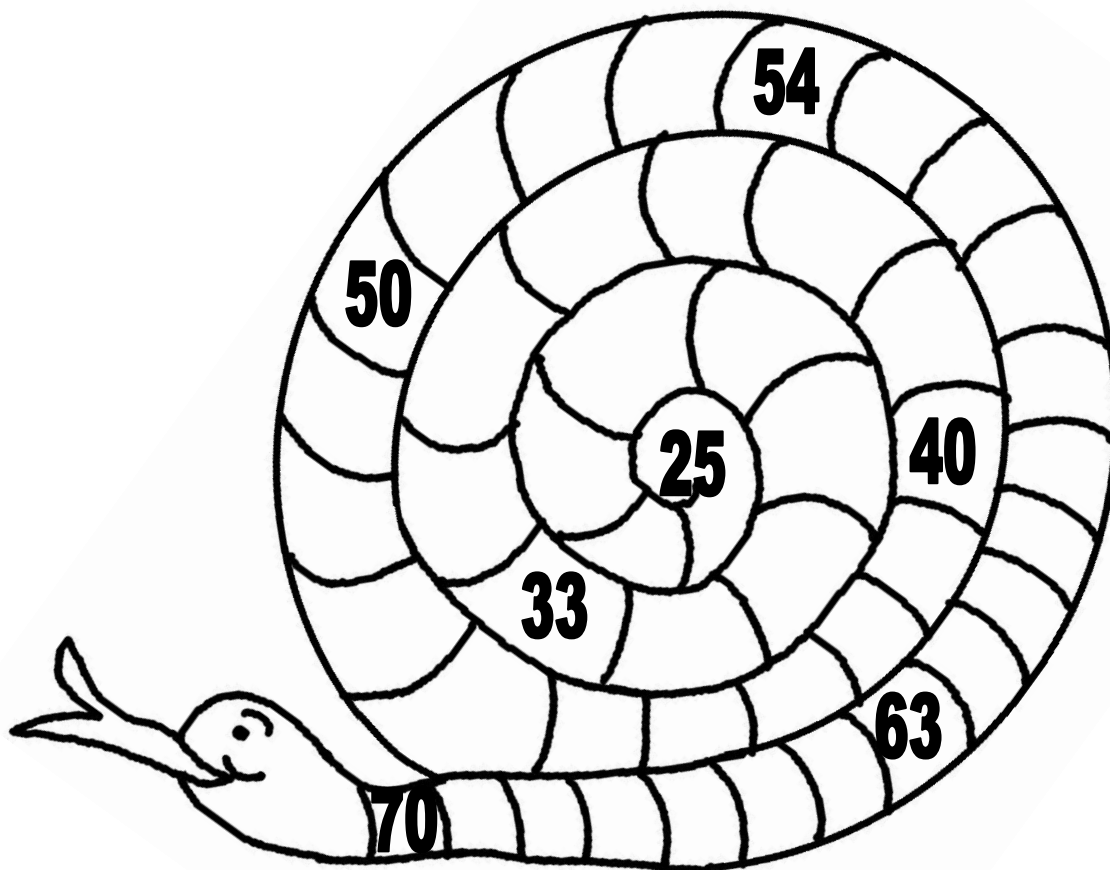


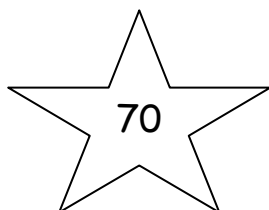


Οι αριθμοί μέχρι το 70

Όνομα: _____

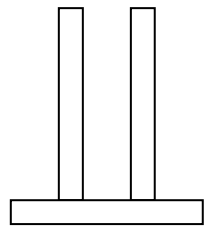
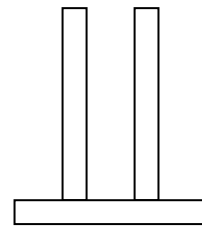
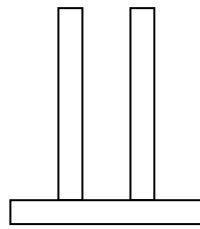
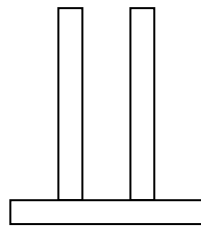
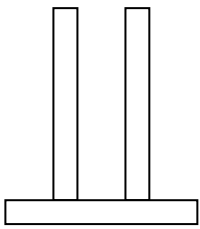
1. Συμπλήρωσε τους αριθμούς που λείπουν στο φιδάκι



2. Κυκλώνω με κόκκινο τις Δεκάδες και με πράσινο τις Μονάδες



3. Σχηματίζω τους αριθμούς στους άβακες



57

69

52

60

50

4. Βάζω τους παραπάνω αριθμούς στη σειρά ξεκινώντας από τον μικρότερο

..... < < < <

5. Κάνε τις παρακάτω πράξεις



$20 + 30 = \underline{\quad}$	$70 - 30 = \underline{\quad}$
$40 + 10 = \underline{\quad}$	$70 - 10 = \underline{\quad}$
$50 + 20 = \underline{\quad}$	$60 - 30 = \underline{\quad}$
$40 + 30 = \underline{\quad}$	$60 - 20 = \underline{\quad}$

Αν δυσκολεύεσαι κρύψε το 0 αλλά μη ξεχάσεις να το βάλεις στο τέλος του αριθμού που θα βρεις