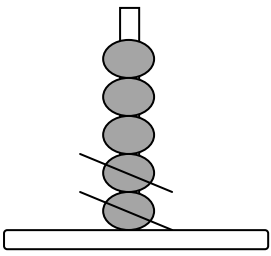


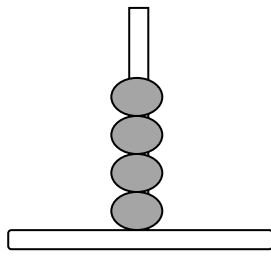
Αφαίρεση με αφαιρετέο μικρό αριθμό

Όνομα: _____

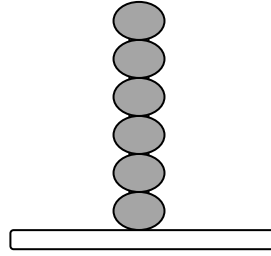
1. Κάνω τις παρακάτω αφαιρέσεις όπως το παράδειγμα



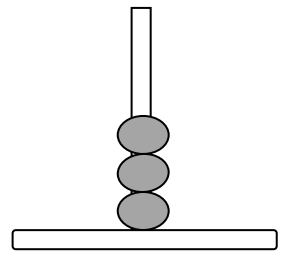
$$5 - 2 = 3$$



$$4 - 2 = \underline{\quad}$$

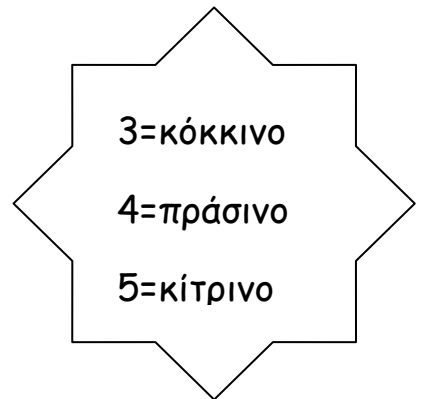



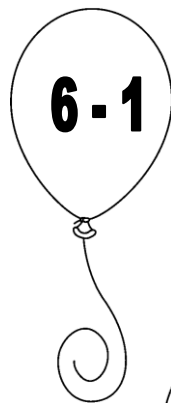




$$6 - 3 = \underline{\quad}$$



$$3 - 1 = \underline{\quad}$$

2. Βάψω τα μπαλόνια με το χρώμα που ταιριάζει



3. Λύνω τα παρακάτω προβλήματα

Ήταν 9 πουλάκια και έφυγαν τα 2. Πόσα έμειναν;

ΛΥΣΗ

$$\square \quad \square = \square$$




ΑΠΑΝΤΗΣΗ

Έμειναν _____ πουλάκια

Το δέντρο είχε 10 μήλα. Έκοψα τα 3. Πόσα έμειναν;

ΛΥΣΗ

$$\square \quad \square = \square$$



ΑΠΑΝΤΗΣΗ

Έμειναν _____ μήλα