

## Επαναληπτικό μάθημα

Όνομα: \_\_\_\_\_

1. Συμπληρώνω τους αριθμούς που λείπουν για να σχηματιστούν οι σειρές

18		20	
----	--	----	--

	40		42
--	----	--	----




	25		27
--	----	--	----

19			22
----	--	--	----

47			50
----	--	--	----

		31	32
--	--	----	----

2. Μετρώ και κυκλώνω όσα λέει ο αριθμός



23

37

14

48

Θυμήσου! Δε χρειάζεται να τα μετράς όλα.



3. Κάθε κουτί έχει 10 σπέρτα. Ζωγράφισε πόσα είναι έξω από το κουτί, αν ο αριθμός πάνω στο κουτί δείχνει πόσα έχουν μείνει μέσα σε αυτό.



4. Κάνω τις παρακάτω πράξεις

$5 + 2 = \underline{\quad}$

$9 - 4 = \underline{\quad}$

$4 + 6 = \underline{\quad}$

$10 - 3 = \underline{\quad}$

$8 - 5 = \underline{\quad}$

$3 + 4 = \underline{\quad}$

$5 + 5 = \underline{\quad}$

$9 - 3 = \underline{\quad}$

$6 + 3 = \underline{\quad}$

$7 + 1 = \underline{\quad}$

$5 - 3 = \underline{\quad}$

$8 - 4 = \underline{\quad}$

5. Λύνω τα παρακάτω προβλήματα

Ο Φάνης έχει 10 βόλους και έδωσε στον Άρη τους 3. Πόσοι του έμειναν;

ΛΥΣΗ

$\square \quad \square = \square$

ΑΠΑΝΤΗΣΗ

Του έμειναν  $\underline{\quad}$  βόλοι

Η Άννα έχει 5 ευρώ και η γιαγιά της έδωσε άλλα 4 ευρώ. Πόσα χρήματα έχει συνολικά;

ΛΥΣΗ

$\square \quad \square = \square$

ΑΠΑΝΤΗΣΗ

Συνολικά έχει  $\underline{\quad}$  ευρώ