


Διάκριση συμβόλων «+» και «-»

Όνομα: _____

1. Γράφω τις προσθέσεις μέσα στον ήλιο και τις αφαιρέσεις μέσα στο φεγγάρι. Υπολογίζω τα αποτελέσματα

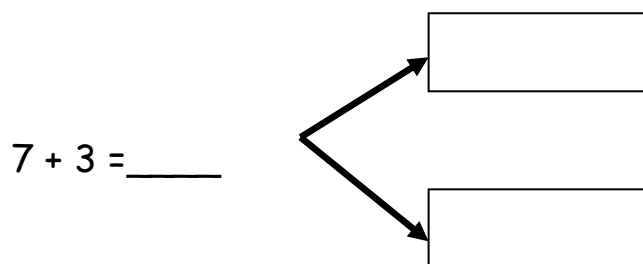
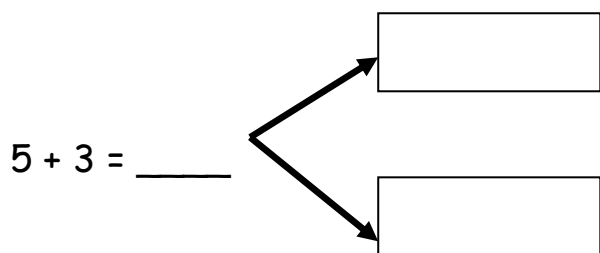
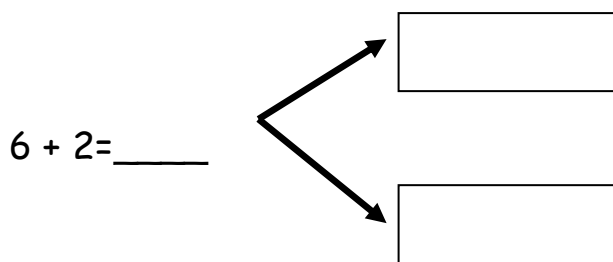
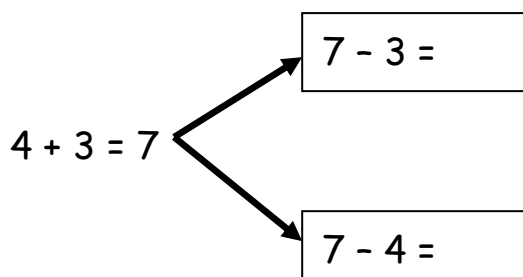
2+3 4-1 5-2 3+3 4+3 7-2 4+4 3-2



2. Βάζω το σωστό σημαδάκι «+» ή «-»

$2 \bigcirc 3 = 5$	$7 \bigcirc 2 = 5$
$6 \bigcirc 2 = 4$	$7 \bigcirc 2 = 9$
$5 \bigcirc 2 = 3$	$3 \bigcirc 3 = 6$
$2 \bigcirc 4 = 6$	$6 \bigcirc 3 = 3$
$5 \bigcirc 3 = 8$	$2 \bigcirc 1 = 3$

3. Από κάθε πρόσθεση βρίσκω δύο αφαιρέσεις



4. Λύνω τα προβλήματα και γράφω τις πράξεις.

Η Έλλη έχει 5 € και της έδωσε
 η μητέρα της άλλα 2€. Πόσα έχει
 τώρα;



Γράφω την πράξη

Ο Πέτρος έχει 8 γραμματόσημα
 και χάρισε τα 2 στην αδερφή του.

Πόσα του έμειναν;



Γράφω την πράξη