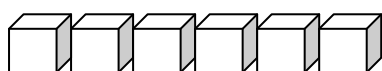
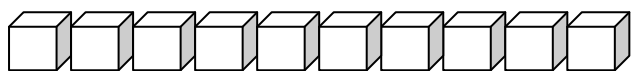
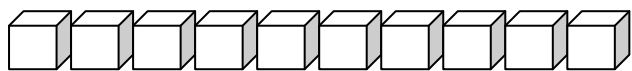


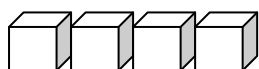
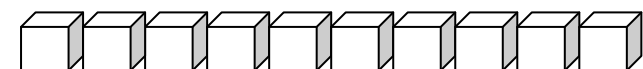
# Οι αριθμοί μέχρι το 50

Όνομα: \_\_\_\_\_

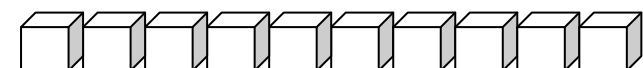
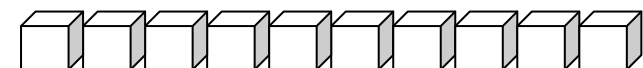
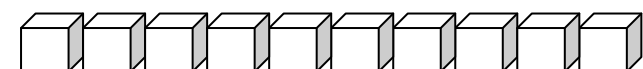
## 1. Μετρώ τα κυβάκια και υπολογίζω όπως το παράδειγμα



$$10 + 10 + 6 = 26$$

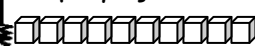


$$\underline{\quad\quad} + \underline{\quad\quad} = \underline{\quad\quad}$$



$$\underline{\quad\quad} + \underline{\quad\quad} = \underline{\quad\quad}$$

Θυμήσου! Δε χρειάζεται να μετράς όλα.

 10

2. Κύκλωσε με κόκκινο τις δεκάδες και με πράσινο τις μονάδες

18            35            41            23            50

3. Βάζω τους παραπάνω αριθμούς στη σειρά ξεκινώντας από το μικρότερο

\_\_\_\_\_ < \_\_\_\_\_ < \_\_\_\_\_ < \_\_\_\_\_ < \_\_\_\_\_

4. Ξεχωρίζω τις δεκάδες (Δ) από τις μονάδες (Μ). Δες το παράδειγμα

	1Δ	5Μ
15	_____	_____
28	_____	_____
34	_____	_____
47	_____	_____
11	_____	_____
39	_____	_____
21	_____	_____
50	_____	_____
41	_____	_____