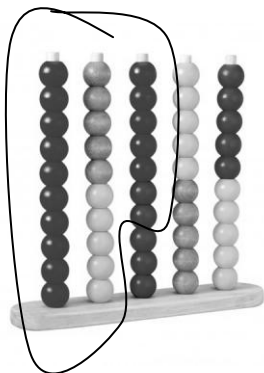



Οι αριθμοί μέχρι το 50

Όνομα: _____


1. Κυκλώνω όσα λέει ο αριθμός και μετά αναλύω. Δες το παράδειγμα



27




30



18


$10+10+7=27$




13



45



22

Θυμήσου! Δε χρειάζεται να τα μετράς όλα.
 =10



2. Συμπληρώνω τον προηγούμενο και τον επόμενο αριθμό

| | | |
|--|----|--|
| | 20 | |
| | 10 | |
| | 34 | |
| | 29 | |
| | 41 | |
| | 49 | |

3. Συμπλήρωσε όπως το παράδειγμα

Το 34 είναι $10+10+10+4$ δηλαδή 3Δ και 4Μ

Το 18 είναι _____ δηλαδή ___Δ και ___Μ

Το 29 είναι _____ δηλαδή ___Δ και ___Μ

Το 43 είναι _____ δηλαδή ___Δ και ___Μ