




Το συμπλήρωμα

Όνομα _____

1. Συμπληρώνω τους αριθμούς που λείπουν



2. Υπολογίζω και συμπληρώνω τους αριθμούς που λείπουν

A collection of pencil illustrations forming a rectangular frame around the math problems. There are pencils on the top, bottom, left, and right sides, and a pencil cup with several pencils in the bottom right corner.

$6 + \dots = 10$	$1 + \dots = 6$
$3 + 5 = \dots$	$4 + \dots = 10$
$8 + \dots = 10$	$5 + \dots = 9$
$\dots + 5 = 7$	$4 + 4 = \dots$

3. Συμπληρώνω τον αριθμό που λείπει

3	1
1	

Όλα μαζί είναι 6

2	3
1	

Όλα μαζί είναι 8

3	2
1	

Όλα μαζί είναι 10

3	2
2	

Όλα μαζί είναι 9

1	1
2	

Όλα μαζί είναι 7

1	1
1	

Όλα μαζί είναι 5

4. Λύσε το πρόβλημα

Η Μαρία είχε στην μολυβοθήκη της 9 ξυλομπογιές. Έδωσε μερικές στη φίλη της και της έμειναν 6. Πόσες έδωσε;

$$\square - \square = \square$$

Απάντηση: Η Μαρία έδωσε ξυλομπογιές

