

Προβλήματα

Όνομα: _____



Ο Άρης έχει 5 ευρώ στον κουμπαρά του. Του έδωσε η γιαγιά του άλλα 3 ευρώ. Πόσα χρήματα έχει τώρα;

Υπολογίζω

Ζωγραφίζω

$$\square + \square = \square$$

Ο Άρης έχει ευρώ



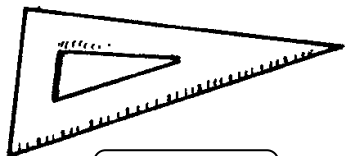
Η Ελένη έβαλε 4 καλάθια και ο Δημήτρης 6. Πόσα έβαλαν και τα δύο παιδιά μαζί;

Υπολογίζω

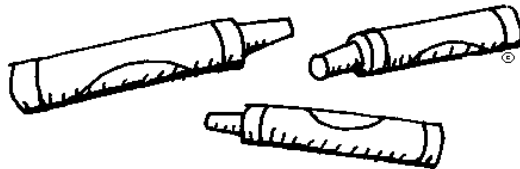
$$\square + \square = \square$$

Τα παιδιά έβαλαν καλάθια


Έχεις 10 ευρώ. Πόσα πράγματα μπορείς να αγοράσεις από το βιβλιοπωλείο; Χρωμάτισε τα .




2 €



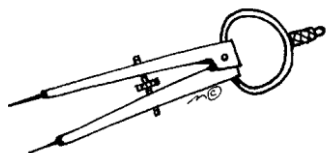
2 €



1 €



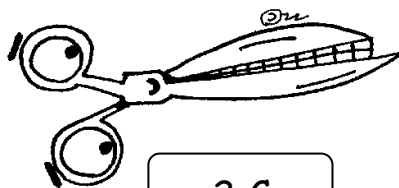
6 €



3 €



4 €



2 €