


Αφαίρεση με αφαιρετέο μεγάλο αριθμό

Όνομα: _____

1. Ανεβαίνω 2-2 μέχρι το 20




2. Χρωματίζω τα αστεράκια με

Κίτρινο= υπόλοιπο 3

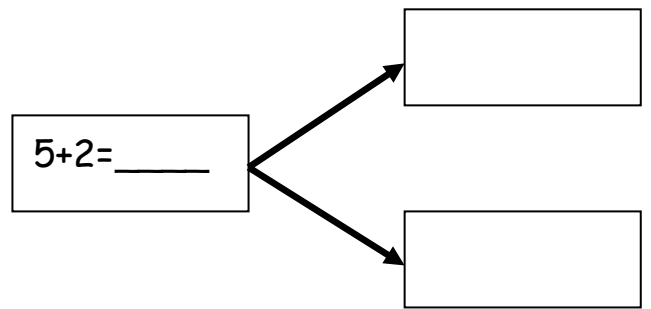
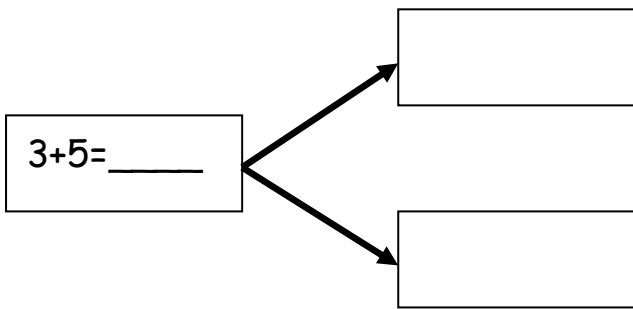
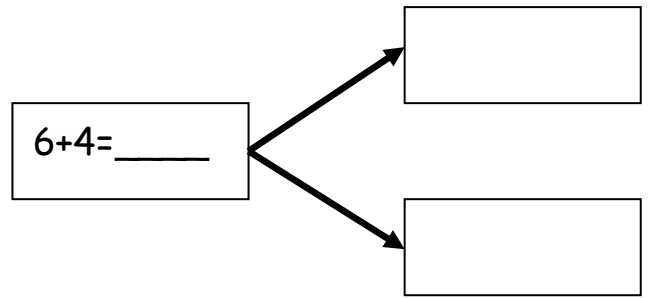
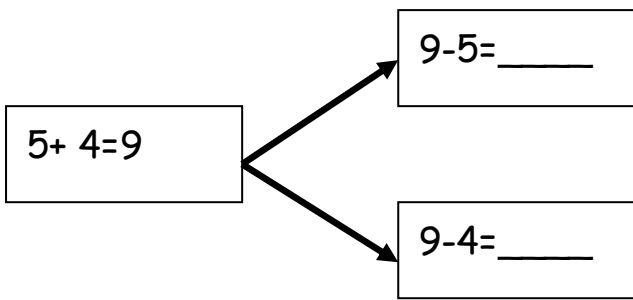
Πράσινο= υπόλοιπο 4

Ροζ= υπόλοιπο 5

Μωβ= υπόλοιπο 6



3. Από την πρόσθεση βρίσκω 2 αφαιρέσεις



4. Λύνω το πρόβλημα

Ο Άκης έχει 10 βόλους. Η Έλλη έχει 6 βόλους. Πόσους περισσότερους βόλους έχει ο Άκης;

Λύση

$\underline{\hspace{2cm}}$

Απάντηση: $\underline{\hspace{2cm}}$

$\underline{\hspace{2cm}}$

