



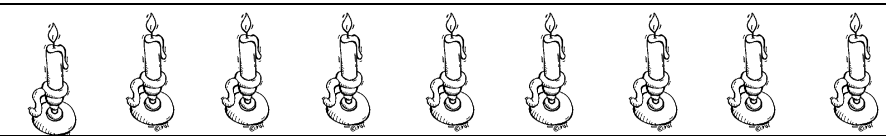







# Προσθετική ανάλυση των αριθμών από το 6 μέχρι το 10

Όνομα: \_\_\_\_\_

1. Ζωγραφίζω με 2 διαφορετικά χρώματα τους συνδυασμούς του 9. Έπειτα τους γράφω με αριθμούς. Δες το παράδειγμα

	$8+1=9$
	
	
	
	
	
	
	
	
	

## 2. Μοιράζω το 10 με διαφορετικούς τρόπους

The image contains ten identical diagrams arranged in two columns and five rows. Each diagram consists of a cloud at the top with a small circle containing the number 10. Two arrows point from the cloud to two empty circles below, representing a partitioning of the number 10.