

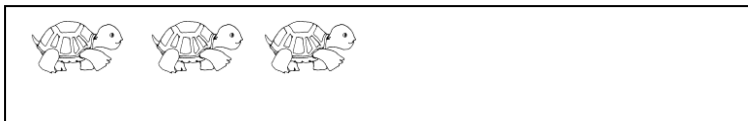
Προσθετική ανάλυση των αριθμών από το 6 μέχρι το 10

Όνομα: _____

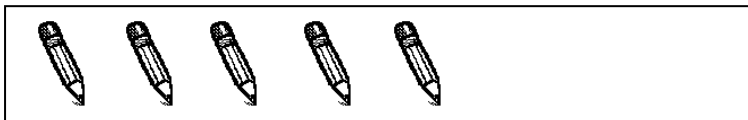
1. Μοίρασε τις 6 ξυλομπογιές με διαφορετικούς τρόπους στα 2 παιδιά



2. Μετρώ και συμπληρώνω δίπλα πόσα πρέπει να βάλω για να γίνουν όλα 7



$$3 + \underline{\quad} = 7$$

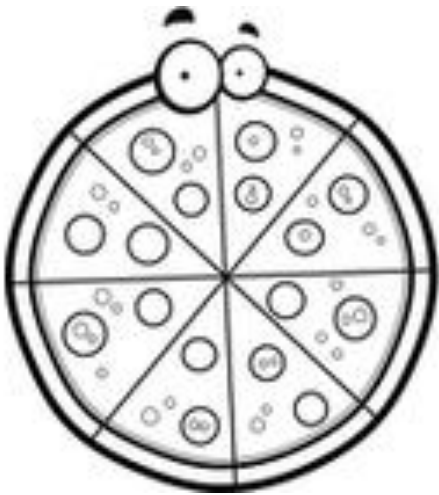


$$5 + \underline{\quad} = 7$$



$$\underline{\quad} + 3 = 7$$

3. Μοίρασε τα 8 κομμάτια πίτσα με διαφορετικούς τρόπους



8	0
7	

4. Συμπληρώνω τα παρακάτω αθροίσματα

$3+4= \underline{\quad}$

$5+1= \underline{\quad}$

$5+3= \underline{\quad}$

$3+5= \underline{\quad}$

$2+6= \underline{\quad}$

$5+2= \underline{\quad}$

$4+2= \underline{\quad}$

$4+4= \underline{\quad}$