

## Αθροίσματα με πολλούς όρους

Όνομα: \_\_\_\_\_

1. Συμπλήρωσε τις κάρτες που λείπουν έτσι ώστε το κάθε παιδί να έχει το σύνολο που γράφει




**7**

4	2	
---	---	--

3	1	
---	---	--

5	1	
---	---	--




**9**

2	3	
---	---	--

4	3	
---	---	--

5	1	
---	---	--



**10**

3	3	
---	---	--

5	2	
---	---	--

2	1	
---	---	--

2. Κάνε τις παρακάτω πράξεις οριζόντια και κάθετα



$3+2+5=.....$

$6+2+1=.....$

$2+2+2=.....$

$5+2+1=.....$

$2+4+1=.....$

$4+2+2=.....$

$3+3+3=.....$

$1+2+3=.....$

$$\begin{array}{r} 3 \\ 2 \\ + 3 \\ \hline \end{array}$$

$$\begin{array}{r} 4 \\ 3 \\ + 1 \\ \hline \end{array}$$

$$\begin{array}{r} 5 \\ 2 \\ + 2 \\ \hline \end{array}$$

3. Λύσε το πρόβλημα

Ο Γιάννης αγόρασε δύο μπάλες και ένα βιβλίο.

Πόσα χρήματα πλήρωσε;

ΛΥΣΗ

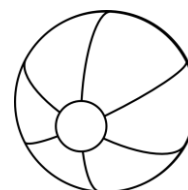
<input type="text"/>	<input type="text"/>	<input type="text"/>	=	<input type="text"/>
----------------------	----------------------	----------------------	---	----------------------

ΑΠΑΝΤΗΣΗ

Ο Γιάννης πλήρωσε \_\_\_\_\_ ευρώ



5 ευρώ



2 ευρώ