

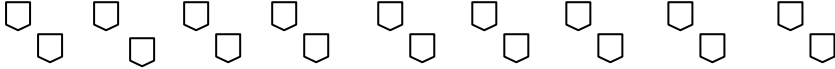

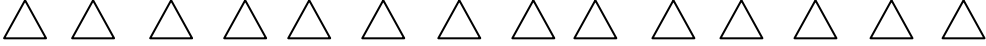

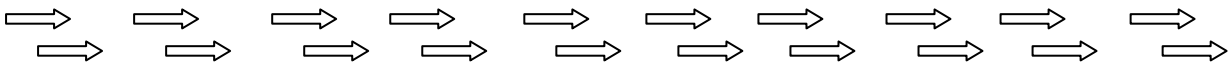



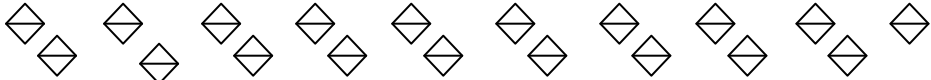


Οι αριθμοί από το 10 μέχρι το 20

Όνομα: _____

1. Γράφω τους αριθμούς μέχρι το 20

1										
										20

2. Μετρώ και γράφω πόσα είναι τα αντικείμενα

3. Γράφω τον αριθμό που είναι πριν και μετά

..... **13**

..... **16**

..... **11**

..... **19**

..... **15**

..... **18**

4. Κάνω τις παρακάτω πράξεις

$$\begin{array}{r} 4 \\ + 2 \\ \hline \end{array}$$

$$\begin{array}{r} 3 \\ + 4 \\ \hline \end{array}$$

$$\begin{array}{r} 5 \\ + 1 \\ \hline \end{array}$$

$$\begin{array}{r} 2 \\ + 2 \\ \hline \end{array}$$

3+2=___

2+4=___

3+3=___

4+1=___

5+2=___

6+1=___