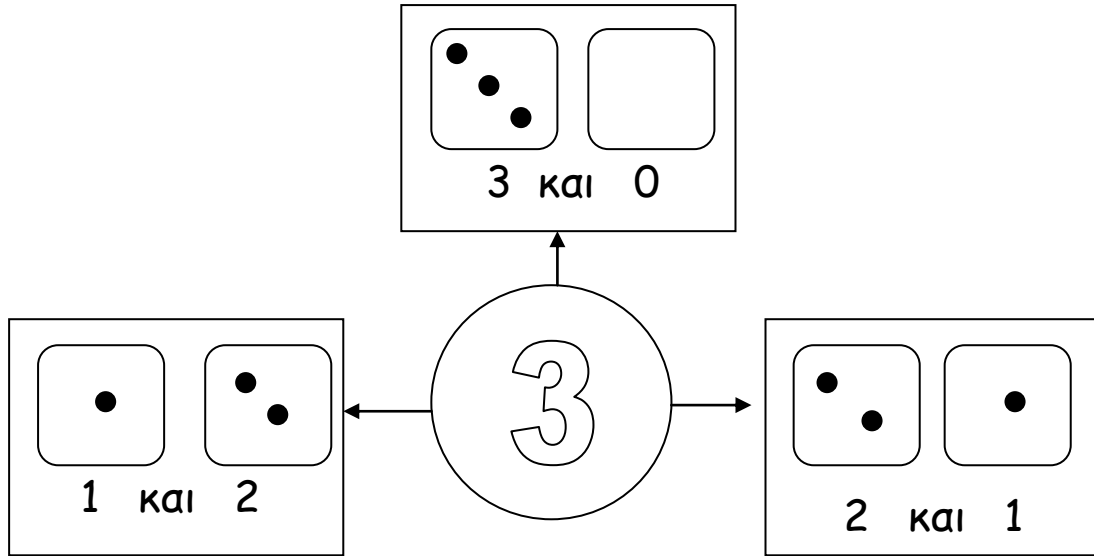
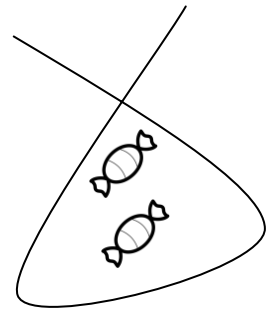
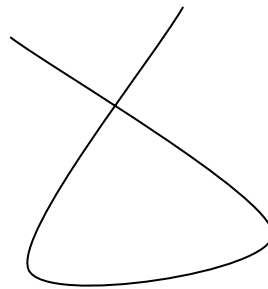
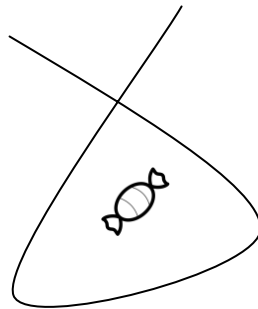





Ανάλυση του 3



1. Συμπλήρωσε σε κάθε σακουλάκι όσες καραμέλες πρέπει, για να έχει το κάθε παιδί από 3.



2. Μετρώ και συμπληρώνω δίπλα πόσα πρέπει να βάλω για να γίνουν όλα 3



$$3 \text{ και } \underline{\quad} = 3$$

$$\underline{\quad} \text{ και } \underline{\quad} = 3$$

$$\underline{\quad} \text{ και } \underline{\quad} = 3$$