





Οι αριθμοί από το 10 μέχρι το 20

Όνομα: _____ Ημερομηνία: _____

1. Γράφω τις λέξεις ή τους αριθμούς που λείπουν

10			πέντε
3			εφτά
	δύο	4	
1			εννιά

2. Μετρώ και γράφω στο κουτάκι τον αριθμό



3. Απαντώ στις ερωτήσεις

Πόσες ρόδες έχουν τα 7 ποδήλατα;



Απάντηση: Τα 7 ποδήλατα έχουν _____ ρόδες.

Πόσες πόδια έχουν τα 4 σκυλάκια;



Απάντηση: Τα 4 σκυλάκια έχουν _____ πόδια.

Ζωγράφισε σε κάθε βάζο τόσα λουλούδια ώστε να είναι όλα 12

