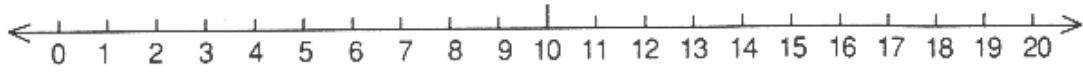


Οι αριθμοί από το 10 έως το 20


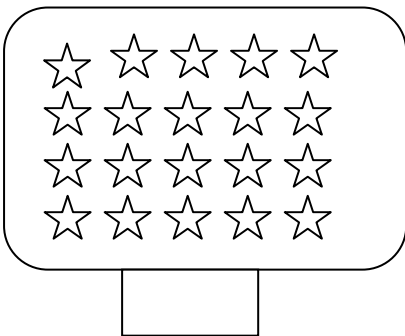
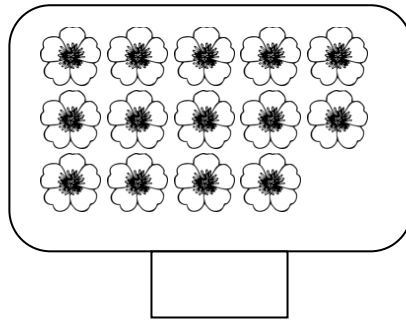



Όνομα: _____

1. Γράφω τις λέξεις ή τους αριθμούς που λείπουν

10			πέντε
3			εφτά
	δύο	4	
1			εννιά

2. Μετρώ και γράφω στο κουτάκι τον αριθμό




3. Απαντώ στις ερωτήσεις

Πόσες ρόδες έχουν τα 7 ποδήλατα;



Τα 7 ποδήλατα έχουν ρόδες

Πόσα πόδια έχουν όλα τα σκυλάκια;



Τα σκυλάκια έχουν συνολικά πόδια

Ζωγράφισε 12 λουλούδια

