

Οι αριθμοί από το 10 μέχρι το 20

Όνομα: _____ Ημερομηνία: _____

1. Γράφω τους αριθμούς μέχρι το 20


1 5

8


14

20


2. Πόσα είναι τα αντικείμενα; Κυκλώνω το σωστό




13 12 10




11 10 14




20 16 18



11 14 12



17 6 16



20 19 2

3. Γράφω τον αριθμό που είναι πριν και μετά



<input type="text"/>	←	13	→	<input type="text"/>
<input type="text"/>	←	16	→	<input type="text"/>
<input type="text"/>	←	11	→	<input type="text"/>

<input type="text"/>	←	19	→	<input type="text"/>
<input type="text"/>	←	15	→	<input type="text"/>
<input type="text"/>	←	18	→	<input type="text"/>

4. Κάνω τις παρακάτω πράξεις

$$\begin{array}{r} 4 \\ + 2 \\ \hline \end{array}$$

$$\begin{array}{r} 3 \\ + 4 \\ \hline \end{array}$$

$$\begin{array}{r} 5 \\ + 1 \\ \hline \end{array}$$

$3+2= _ _ _$

$2+4= _ _ _$

$3+3= _ _ _$

$4+1= _ _ _$

$5+2= _ _ _$

$6+1= _ _ _$