

Αθροίσματα μέχρι το 10

Αντιμεταθετική ιδιότητα της πρόσθεσης

Όνομα: _____

1. Πόσα είναι όλα;




$$\square + \square = \square$$




$$\square \quad \square \quad \square$$



$$\square + \square = \square$$



$$\square \quad \square \quad \square$$



$$\square + \square = \square$$

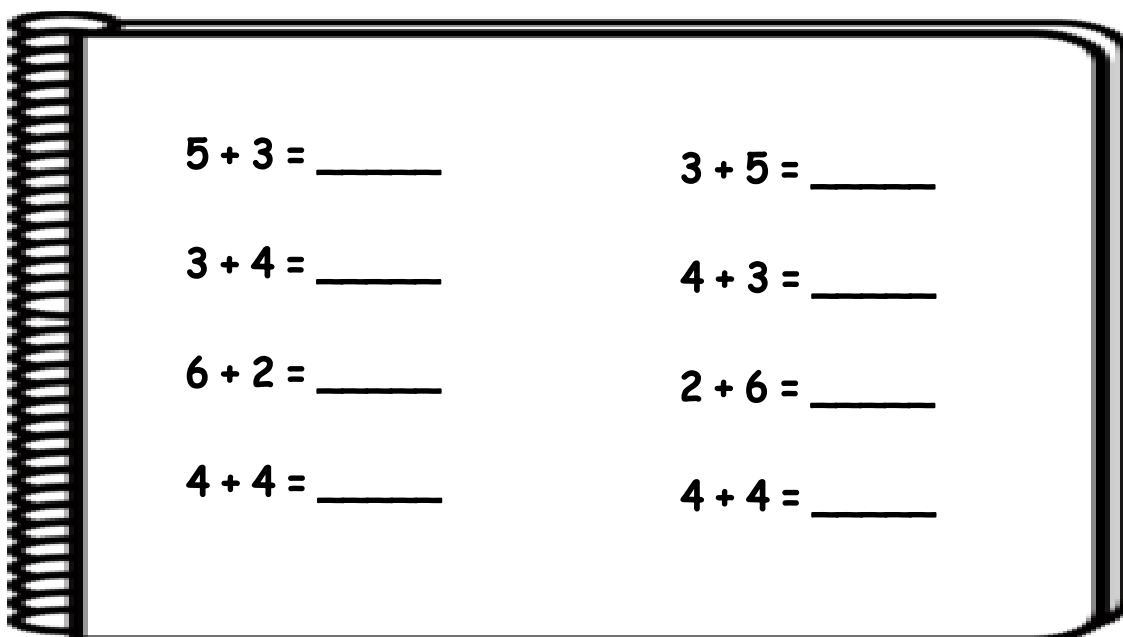


$$\square + \square = \square$$

2. Χρωμάτισε όσα σπιτάκια κάνουν 8



3. Βρίσκω τα παρακάτω αθροίσματα



Τι παρατηρείς;
