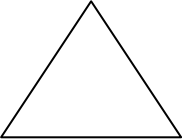


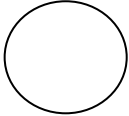


Γεωμετρικά σχήματα

Όνομα: _____

1. Σχεδίασε τα σχήματα κάθε στήλης (χωρίς χάρακα!)

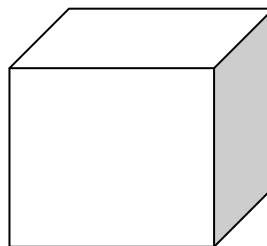



2. Χρωμάτισε τα σχήματα

α) κύβος: κόκκινο

β) τετράγωνο: κίτρινο

γ) ρόμβος: μωβ

δ) κύλινδρος: πορτοκαλί



3. Αντιστοίχισε το σωστό σχήμα με την εικόνα που ταιριάζει

