





Αντίληψη μεγέθους

Όνομα: _____

A. Χρωμάτισε με το ίδιο χρώμα τις εικόνες που έχουν το ίδιο μέγεθος



B. Χρωμάτισε με το ίδιο χρώμα τις εικόνες που έχουν το ίδιο μέγεθος



Γ. Χρωμάτισε με το ίδιο χρώμα τα σχήματα που έχουν το ίδιο μέγεθος

