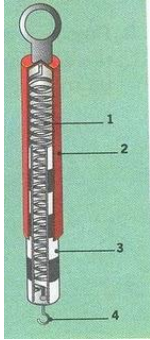




Μηχανική

Όνομα: _____

1. Γράψε τα μέρη του δυναμόμετρου




1.

2.

3.


4.

2. Ποιο είναι το αποτέλεσμα της δύναμης σε κάθε περίπτωση;



3. Τι ονομάζουμε τριβή και από ποιους παράγοντες εξαρτάται;

4. Σημείωσε στα παρακάτω κουτάκια πότε ασκείται δύναμη σε επαφή και πότε σε απόσταση



5. Γιατί παραμορφώνεται το κουτί καθώς πίνουμε χυμό; Τι θα συμβεί αν ανοίξουμε μια δεύτερη τρύπα; Αιτιολόγησε την απάντησή σου



6. Με ποιον τρόπο μπορούν να μειώσουν την τριβή. Σχολίασε την εικόνα



7. Γιατί το παιδί δεν τραυματίζεται καθώς ξαπλώνει πάνω στα καρφιά;